

# TÜRKÇE

## MINİK KUŞ

Ben bir minik kuşum. Rengim sarı ve yeşil. Sesim tıpkı bir ıslık gibi. Benim bu hayattaki görevim sabahları okula geç kalan minikleri tatlı uykularından uyandırmaktır.

Odalarının penceresine konup, tık tık vururum gagamla camlarına.

Minikler de geç kalmaz okullarına.



(İlk 3 soruyu metine göre cevaplayınız.)

1) Minik kuş, sesini neye benzetiyor?

A) Düdük B) Bülbül C) ıslık

2) Minik kuş, çocukları uykularından nasıl uyandırıyor?

A) Odalarının penceresine konup öterek.

B) Odalarının penceresine konup gagasıyla cama vurarak

C) Odalarının penceresine konup ıslık çalarak.

3) Minik kuş, sabahları evlerin penceresine konmazsa ne gibi sonuçlar oluşur?

A) Çocuklar uyanamaz ve okullarına geç kalırlar.

B) Minik kuş, pencerelere konan ekmeklerden yiyemez.

C) Minik kuş, tatlı uykusundan uyanamaz.

4) Acemi terzi elbisemi dikemedi.

Altı çizili kelimenin zıt anlamlısı aşağıdakilerden hangisidir?

A) Beceriksiz

B) Usta

C) Kaliteli

5) "Yaşlı kaplumbağa güz mevsimi geldiğinde sarı yapraklar arasında yavaş yavaş yürümeyi çok severmiş."

Yukarıdaki parçada hikaye unsurlarından hangisi yoktur?

A) Olay

B) Zaman

C) Yer

6) Hangi karakterin söylediği bir cümle değildir?

A)



Ben böyle nereye

B)



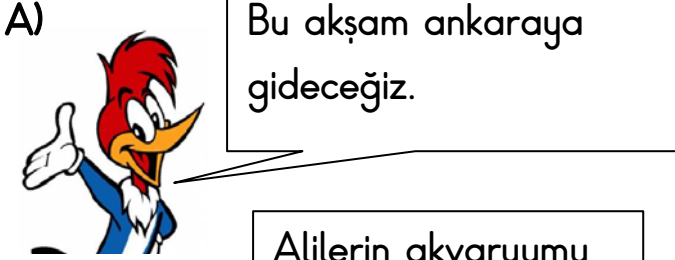
Benimle oynamak ister misin?

C)



Bütün arkadaşlarımdan daha hızlı koşuyorum.

7) Hangi karakter cümlesinde yazım yanlış yapmıştır?



8) kelebek - kelek - kel - balık

Yukarıdaki kelimelerin sözlük sırasına göre sıralanmış hali hangisidir?

- A) kel - kelek - balık - kelebek  
B) kel - kelebek - kelek - balık  
C) balık - kel - kelebek - kelek

9) Aşağıdaki kelimelerden hangisi aldığı ek nedeniyle yeni bir kelime oluşturmamıştır?

- A) kolye  
B) tuzluk  
C) liseli

10)

Barış olsun, savaş olsun,  
Çocukları sevmeliyiz.  
Hepsine de değer verip,  
Kıymetini bilmeliyiz.

Şiirin konusu hangi şıkta doğru verilmiştir?

- A) Barış B) Çocuk sevgisi C) Değer

11) "Babam her zaman yaşlı insanlara yardım etmemiz gerektiğini söyledi." Cümlesindeki altı çizili kelimenin eş anlamlısı aşağıdaki cümlelerin hangisinde vardır?

- A) Mehmet, genç insanlarla arkadaş olur.  
B) Otobüste ihtiyar amcaya yer verdi.  
C) Mektep bizim evimiz gibidir.

12) Aşağıdaki cümlelerden hangisi bir istek bildirmektedir?




- ▲ Herkes barış içerisinde yaşasın  
◆ Bütün dersleri iyiymiş.  
■ Bu olaya çok üzüldüm

A) ◆

B) ■




C) ▲

13)

	Ne?	Sabah <u>süt</u> içtim.
	Nerede?	<u>Bahçede</u> top oynadık.
	Ne Zaman?	<u>Ödevlerimizi</u> zamanında yapmalıyız.

Tablodaki sorularla cevapları olan cümlelerdeki altı çizili sözcükler eşleştirilmiştir.

Buna göre hangi eşleştirme yanlıştır?

- A)  B)  C) 

14) Aşağıdaki cümlelerin hangisinin sonuna farklı bir noktalama işareti konulmalıdır?

- A) Bu yemeği nasıl yapıyorsun  
B) Okula gelmeyecek miymiş  
C) Çiçekleri, kardeşim almış

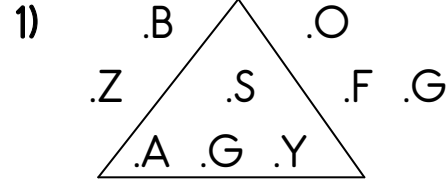
15) yurdumuz-kurtarıldı-önderliğinde-düşmanlardan-Atatürk'ün

Yukarda karışık olarak verilen cümleyi kurallı hale getirirsek baştan 3.kelime hangisi olur?

- A)önderliğinde  
B)yurdumuz  
C)düşmanlardan

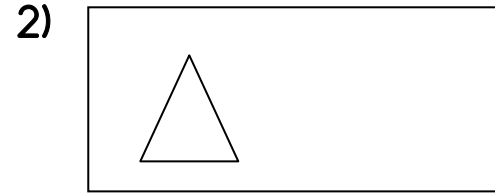
Türkçe testi bitti. Lütfen Matematik testine geçiniz..

## MATEMATİK




Yukarıdaki üçgenin içinde kaç tane nokta vardır?

- A) 9 B) 5 C) 4



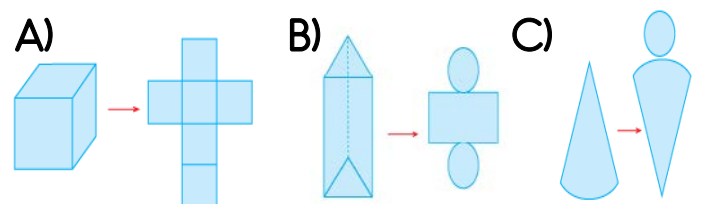
Yukarıdaki görselle ilgili verilen bilgilerden hangisi yanlıştır?

- A) Tahtanın yüzeyi eğridir.  
B) Üçgen düzlemsel şekildir.  
C) Tahta düzlemdir.

3)  Yandaki verilen şekil hangi geometrik şeklin bir yüzeyi olamaz?

- A) Küp B) Silindir C) Kare Prizma

4)Aşağıdaki prizmalardan hangisi açınımla yanlış eşleştirilmiştir?



5)

Çocuk Hastalıkları Kliniği	
Zatürre	
Çocuk Felci	
Sarılık	

Verilen çetele tablosunu yansıtan çokluk (sıklık) tablosu, aşağıdakilerden hangisidir?

A)

Çocuk Hastalıkları Kliniği	
Zatürre	6
Çocuk Felci	3
Sarılık	13

B)

Çocuk Hastalıkları Kliniği	
Zatürre	11
Çocuk Felci	3
Sarılık	24

C)

Çocuk Hastalıkları Kliniği	
Zatürre	7
Çocuk Felci	3
Sarılık	15

6)Aşağıdaki sayılarla yazılabilecek 3 basamaklı en büyük çift sayı kaçtır?

( 7 - 5 - 8 - 1 )

A) 871

B) 785

C) 758

7) Aşağıda verilen şekil grafiğinde toplam kaç öğrenci gösterilmektedir?

Erkek öğrenci	
Kız öğrenci	
Her şekil 5 varlığı göstermektedir.	

A) 15

B) 40

C) 50

8) Aşağıdaki şıklardan hangisinde "919" sayısının okunuşu yazmaktadır?

A) Dokuz yüz dokuz

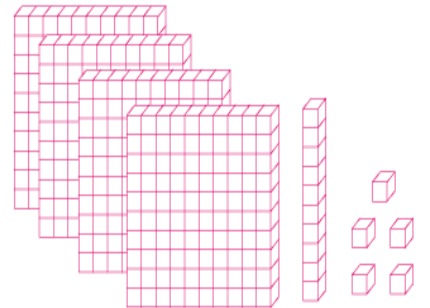
B) Dokuz yüz on dokuz

C) Dokuz on dokuz

9)



Aşağıda taban bloklarıyla gösterilen sayı hangi seçenekte verilmiştir?



A) 415

B) 514

C) 145

10) Aşağıda basamak değerleri verilen sayılardan hangisi en büyüktür?

A) Yüzler Basamağı:6  
Onlar Basamağı:9  
Birler Basamağı:9

B) Onlar Basamağı:9  
Yüzler Basamağı:7  
Birler Basamağı:9

C) Birler Basamağı:0  
Onlar Basamağı:0  
Yüzler Basamağı:9

11) Aşağıdaki sayılardan hangisinde 5 rakamının sayı değeri ve basamak değeri aynıdır?

A) 965      B) 851      C) 594

12) 19 sayısının Romen rakamları ile yazılışı hangisidir?

A) XVI      B) XIX      C) XIV

13)




$\clubsuit < 325$  sıralamasında, " $\clubsuit$ " yerine yazılabilecek en büyük doğal sayı kaçtır?

A) 324      B) 326      C) 329

14)

Aşağıdaki vagonlarda yazılı doğal sayılar, küçükten büyüğe doğru sıralandığında kaç numaralı vagon en sona gelir?




A) 3      B) 2      C) 1


15)

Emre, Kağan ve Seda'nın oluşturduğu örüntülerde taralı kutucuklara yazılacak sayıların toplamı kaçtır?



Emre → 1 - 7 - 13 -  - 25 - 31



Kağan → 2 - 7 - 12 - 17 -  - 27



Seda → 3 - 7 - 11 - 15 - 19 - 

A) 67      B) 64      C) 71

Matematik testi bitti. Lütfen Fen Bilimleri testine geçiniz.

## FEN BİLİMLERİ

1) Aşağıdakilerden hangisi Dünya'nın yuvarlak olduğunun kanıtıdır?

- A) Bir geminin uzaktayken küçük olup yaklaştıkça büyümesi.
- B) Güneşin her gün doğup batması.
- C) Hep aynı yöne gidildiğinde başlanılan noktaya gelinmesi.

2) Aşağıdakilerden hangisinde Dünya'nın iç katmanları içten dışarı doğru sırasıyla verilmiştir?

- A) Çekirdek-Manto-Dış Çekirdek-Yer Kabuğu
- B) Çekirdek-Dış Çekirdek-Manto-Yer Kabuğu
- C) Manto- Yer Kabuğu- Çekirdek - Dış Çekirdek

3)

Dünya yüzeyindeki kara ve suların kapladığı alanlar ile ilgili deney yapacak olan öğrencilerden hangisinin getirdiği malzeme miktarı doğrudur?

A)



B)



C)



4) Karaların ve suların etrafını saran renksiz ve kokusuz tabakaya ne ad verilir?

- A) Hava Tabakası
- B) Su Tabakası
- C) Yer Kabuğu

5)



Tarlada çalışan çiftçi, Dünya'nın hangi tabakaları ile temas halindedir?

- A) Su Tabakası - Hava Tabakası
- B) Su Tabakası - Kara Tabakası
- C) Hava Tabakası - Kara Tabakası

6) Göz ile ilgili verilen bilgilerden hangisi yanlıştır?

- A) Herkesin göz rengi aynıdır.
- B) Işık olmadan görme olayı gerçekleşmez
- C) Kirpik gözümüzü koruyan bir yapıdır.



7) Dil ile ilgili verilen bilgilerden hangisi yanlıştır?

- A) Dilimizin ucu tatlıyı algılar.
- B) Dilimizin arkası tatlıyı algılar.
- C) Dilimiz ekşi ve tuzlu da algılar.



8) Aşağıdakilerden hangisi tüm duyu organlarımızın sağlığı için gereklidir?

- A) Temizliğe dikkat etmek.
- B) Gürültüden uzak durmak.
- C) Fazla ışıktaki durmamak.

9) Kulağımızın sağlığını korumak için;

I. Ucu sivri eşyalarla kulağımızı karıştırmamalıyız.

II. Kulağımız kirlendiğinde temizlemeliyiz.

III. Gürültülü ortamlarda bulunmalıyız.

Verilenlerden hangisi ya da hangileri yanlıştır?

- A) I ve II    B) II ve III    C) Yalnız III

10) Görme duyu organımızı koruyan yapılar hangi şıkta doğru verilmiştir.

- A) Kaş-Kirpik-Göz Kapağı
- B) Göz Bebeği-Kaş-Kirpik
- C) Göz Yaşı-Göz Bebeği-Kaş

Fen Bilimleri testi bitti. Hayat Bilgisi testine geçiniz.

## HAYAT BİLGİSİ

1)



Yukarıdaki malzemeleri çantasına koyan bir çocuk o gün okulda hangi dersleri işleyecektir?

- A) Müzik - Hayat Bilgisi
- B) Görsel Sanatlar- Türkçe
- C) Matematik - Fen Bilimleri


2)



Yukarıdaki görsellere göre, aşağıdakilerden hangisi söylenebilir?

- A) Çocuklar benzer yeteneklere sahiptir.
- B) Çocuklar, aynı fiziksel özelliklere sahiptir.
- C) Çocukların ilgi alanları farklıdır.

3)



Etkili iletişimde, iyi bir konuşmacı ve iyi bir dinleyici olmak şarttır.




Aşağıdakilerden hangisi çocuğun açıklamasına ters düşer?

- A) Dinleyicinin yüzüne bakmamak.
- B) Nezaket ifadeleri kullanmak.
- C) Konuşulanları dikkatli dinlemek.

4) Arkadaş seçiminde hangisi önemli değildir?

- A) Babasının mesleği.
- B) Anlayışlı olması.
- C) Hoşgörülü olması.

5) Arkadaşımız Eda'ya doğum gününde sürpriz bir kutlama yaptık. Eda hangi duyguyu yaşar?

- A) 
- B) 
- C) 

6) Arkadaşının hasta olduğunu bilen Ayşe, ne yaparsa saygılı davranmış olur?

- A) İsrarla oyun oynamak isterse.
- B) Onu rahatsız edecek davranışlardan kaçınırsa.
- C) Onunla alay ederse.

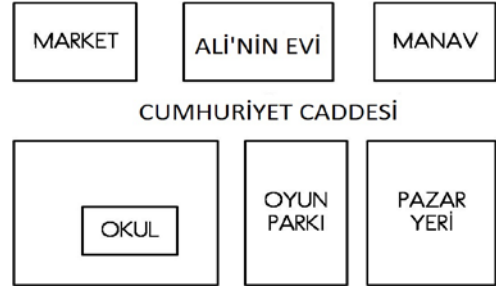
7) Aşağıdakilerden hangisini seçimle belirlemeyiz?

- A) Sınıf Başkanı
- B) Sınıf Temsilcisi
- C) Sınıf Nöbetçisi

8) Bir sorunla karşılaştığımızda hangisini yaparsak sorunumuzu çözeriz?

- A) Sorunun çözüm yollarını düşünüp en uygun olanını seçersek.
- B) Sorunu çıkaran kişiyle kavga edersek.
- C) Sorunumuzu görmezden gelirsek.

9)



Krokiye göre okulun doğusunda hangi yapılar vardır?

- A) Market- Ali'nin evi
- B) Oyun parkı - Pazar yeri
- C) Market - Manav

10) Sınıf başkanlığı seçiminde kime oy verirsek tarafsız oluruz?

- A) En yakın arkadaşına
- B) Liderlik özelliği olan arkadaşına
- C) En komik arkadaşına



# İNGİLİZCE

1) Aşağıdakilerden hangisi diğerlerinden farklı bir kelimedir?

- A) Twelve B) Wheel C) Fourteen

2)



Görsele göre Cansu, arkadaşına aşağıdakilerden hangisini söylüyor olabilir?

- A) You Win!  
B) Please.  
C) Say that again.

3)

ANS\_ER

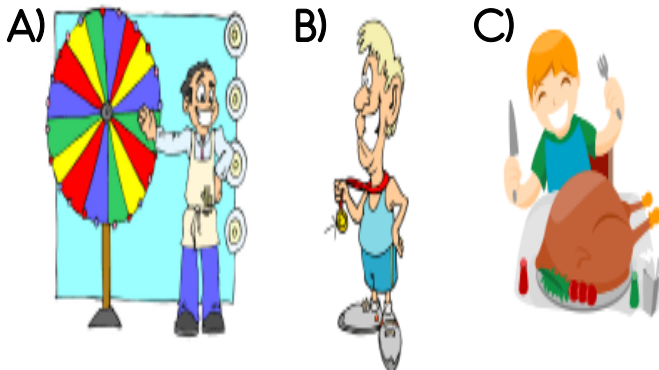


Yukarıdaki kelimedeki eksik olan harf hangi seçenekte verilmiştir?

- A) P B) V C) W

4) "Spin the Wheel."

Bu ifadeye ait görsel aşağıdakilerden hangisidir?



5)  $\boxed{\text{Nine} + \text{Six} = ?}$

Yukarıdaki işlemin sonucu kaçtır?

- A) Twenty B) Fifteen C) Seventeen

6) "Ayşe is my ....."

Yukarıda verilen cümlede boşluğa aşağıdakilerden hangisi gelemez?

- A) Father B) Mother C) Grandmother

7) Babamızın erkek kardeşi için

aşağıdakilerden hangisini

söyleyebiliriz?

- A) He is my sister.  
B) He is my father.  
C) He is my uncle.

8)



Yukarıdaki resim hangi aile üyemiz olabilir?

- A) Uncle B) Cousin C) Grandmother

9) O-S-I-C-U-N

Karışık olarak verilen kelime hangisidir

- A) CUOSIN B) COUSIN C) COISUN

10) "BR..T..ER"

Eksik verilen harfler hangileridir?

- A) O-H B) A-I C) O-I

ADI	:	.....
SOYADI	:	.....
OKULU	:	.....
SINIFI	:	.....

- Cevap kağıdınızda size ait bilgileri yazıp kodlamaları kontrol ediniz.
- Bu testte her bir soru için tek bir doğru cevap yeri vardır. Birden fazla işaretlerseniz o soru geçersiz sayılacaktır.
- Cevaplarınızı koyu siyah ve yumuşak bir kurşun kalemle işaretleyiniz. İşaretlerinizi cevap yerinin dışına taşırmayınız.
- Cevap kağıdınızı buruşturmayınız, herhangi bir işaret koymayınız.
- Değiştirmek istediğiniz bir cevabı yumuşak bir silgiyle cevap kağıdını kırıştırmadan temizce siliniz ve yeni cevabınızı işaretlemeyi unutmayınız.

**SINAV NUMARASI**

1 2 3 4 5 6 7 8

**ÖĞRENCİNİN İMZASI**

**ÖRNEK  
KODLAMA**

- ☒ DOĞRU
- ☐ YANLIŞ
- ☐ YANLIŞ
- ☐ YANLIŞ
- ☒ YANLIŞ

[illegible]

**TÜRKÇE**

- 1 (A) (B) (C) (D)
- 2 (A) (B) (C) (D)
- 3 (A) (B) (C) (D)
- 4 (A) (B) (C) (D)
- 5 (A) (B) (C) (D)
- 6 (A) (B) (C) (D)
- 7 (A) (B) (C) (D)
- 8 (A) (B) (C) (D)
- 9 (A) (B) (C) (D)
- 10 (A) (B) (C) (D)
- 11 (A) (B) (C) (D)
- 12 (A) (B) (C) (D)
- 13 (A) (B) (C) (D)
- 14 (A) (B) (C) (D)
- 15 (A) (B) (C) (D)
- 16 (A) (B) (C) (D)
- 17 (A) (B) (C) (D)
- 18 (A) (B) (C) (D)
- 19 (A) (B) (C) (D)
- 20 (A) (B) (C) (D)

MATEMATİK				
1	(A)	(B)	(C)	(D)
2	(A)	(B)	(C)	(D)
3	(A)	(B)	(C)	(D)
4	(A)	(B)	(C)	(D)
5	(A)	(B)	(C)	(D)
6	(A)	(B)	(C)	(D)
7	(A)	(B)	(C)	(D)
8	(A)	(B)	(C)	(D)
9	(A)	(B)	(C)	(D)
10	(A)	(B)	(C)	(D)
11	(A)	(B)	(C)	(D)
12	(A)	(B)	(C)	(D)
13	(A)	(B)	(C)	(D)
14	(A)	(B)	(C)	(D)
15	(A)	(B)	(C)	(D)
16	(A)	(B)	(C)	(D)
17	(A)	(B)	(C)	(D)
18	(A)	(B)	(C)	(D)
19	(A)	(B)	(C)	(D)
20	(A)	(B)	(C)	(D)

**FEN VE TEK. / FEN BİL.**

- 1 (A) (B) (C) (D)
- 2 (A) (B) (C) (D)
- 3 (A) (B) (C) (D)
- 4 (A) (B) (C) (D)
- 5 (A) (B) (C) (D)
- 6 (A) (B) (C) (D)
- 7 (A) (B) (C) (D)
- 8 (A) (B) (C) (D)
- 9 (A) (B) (C) (D)
- 10 (A) (B) (C) (D)
- 11 (A) (B) (C) (D)
- 12 (A) (B) (C) (D)
- 13 (A) (B) (C) (D)
- 14 (A) (B) (C) (D)
- 15 (A) (B) (C) (D)
- 16 (A) (B) (C) (D)
- 17 (A) (B) (C) (D)
- 18 (A) (B) (C) (D)
- 19 (A) (B) (C) (D)
- 20 (A) (B) (C) (D)

**SOSYAL BİLGİLER (HAYAT BİLGİSİ)**

1 (A) (B) (C) (D)

2 (A) (B) (C) (D)

3 (A) (B) (C) (D)

4 (A) (B) (C) (D)

5 (A) (B) (C) (D)

6 (A) (B) (C) (D)

7 (A) (B) (C) (D)

8 (A) (B) (C) (D)

9 (A) (B) (C) (D)

10 (A) (B) (C) (D)

11 (A) (B) (C) (D)

12 (A) (B) (C) (D)

13 (A) (B) (C) (D)

14 (A) (B) (C) (D)

15 (A) (B) (C) (D)

16 (A) (B) (C) (D)

17 (A) (B) (C) (D)

18 (A) (B) (C) (D)

19 (A) (B) (C) (D)

20 (A) (B) (C) (D)

İNGİLİZCE				
1	A	B	C	D
2	A	B	C	D
3	A	B	C	D
4	A	B	C	D
5	A	B	C	D
6	A	B	C	D
7	A	B	C	D
8	A	B	C	D
9	A	B	C	D
10	A	B	C	D
11	A	B	C	D
12	A	B	C	D
13	A	B	C	D
14	A	B	C	D
15	A	B	C	D
16	A	B	C	D
17	A	B	C	D
18	A	B	C	D
19	A	B	C	D
20	A	B	C	D